
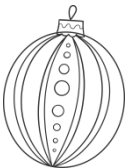



Le sapin de Robert

Robert a réussi à vendre tous ses sapins. Il aimerait bien décorer son sapin de Noël et il a besoin de ton aide. En fait, Robert aimerait décorer son arbre avec un budget maximal de 45\$ et il voudrait avoir plus de 5 boules. Aide Robert à décorer son sapin et n'oublie pas de lui dire combien il lui restera d'argent après avoir acheté ses décorations !

Voici le coût des boules de Noël. Découpe et colle ensuite les boules sur le sapin de Robert.

Décorations	Coût pour une décoration en \$
	1 dizaine + 2 unités \$
	6 unités \$
	4 unités \$

Liste de vérification

- J'ai choisi des décorations pour le sapin
- J'ai calculé le coût total des décorations
- J'ai respecté le budget de 45 \$ maximum
- J'ai inscrit combien d'argent il reste
- J'ai décoré le sapin de Robert
- J'ai vérifié mes calculs



Laisse des traces de tes démarches

Robert, il te reste : _____

Le sapin de Robert

Nom : _____



Crédits

- Polices d'écriture : Kimberly Geswein
- Cliparts : Le petite market
- En téléchargeant le produit suivant, vous vous engagez à respecter mes droits d'auteur et de ne pas effectuer de copies, du plagiat et du partage sans mon consentement. Si vous avez des collègues qui aimeraient avoir ce matériel, vous devez les référer à ma boutique Mieux Enseigner !